



REPÚBLICA DE PANAMÁ
GOBIERNO NACIONAL

MINISTERIO DE
EDUCACIÓN

Cuarto grado

4

Ciencias Sociales

Guía del docente



2024

4

Ciencias Sociales

Cuarto grado



Guía del docente



Bandera de la comarca
Emberá Wounaan

Tema 2. Ubicación y paisaje geográfico de nuestras comarcas

A. Aprendo

Lee la siguiente información:

Territorios especiales

Las comarcas indígenas son unidades político-administrativas especiales del territorio panameño. Ellas se rigen por las leyes que las crean y las normas y costumbres de los pueblos indígenas que las habitan.

En Panamá existen 6 comarcas indígenas: Emberá Wounaan, Guna de Madungandi, Guna de Wargandi, Guna Yala, Ngäbe Buglé y Naso Tjër Di.

Comarca Emberá Wounaan

La comarca Emberá Wounaan se **ubica** al este del país y está formada por dos territorios separados: Cémaco y Sambú. Cada uno es un distrito.

Cémaco tiene una **superficie** de 3058 km². **Limita** al norte con la comarca Guna Yala; al sur y al oeste, con la provincia de Darién y al este, con Colombia. Sambú posee una **superficie** de 1307 km² y **limita** con Darién en todas las direcciones.

La **cabecera** de la comarca es Unión Chocó. La comarca se organiza en 2 distritos y 5 corregimientos.

Paisaje geográfico de la comarca Emberá Wounaan

En el **relieve** de Cémaco, siguiendo el límite con Guna Yala y Colombia, se encuentran elevaciones que forman parte de la serranía de Darién. Algunos cerros son Tacarcuna, Armila y Bell. El resto del territorio es de tierras bajas. En Sambú se encuentran montañas hacia el sur y al este de la comarca. Esas elevaciones forman parte de las serranías de Jingurudó y del Sapo.

En ambos territorios de la comarca se presentan el **clima** subecuatorial con estación seca en las tierras altas, y el clima tropical con estación seca en las tierras bajas. En ambos, las temperaturas son elevadas, pero se diferencian por la cantidad de lluvias en la estación seca.

Datos interesantes

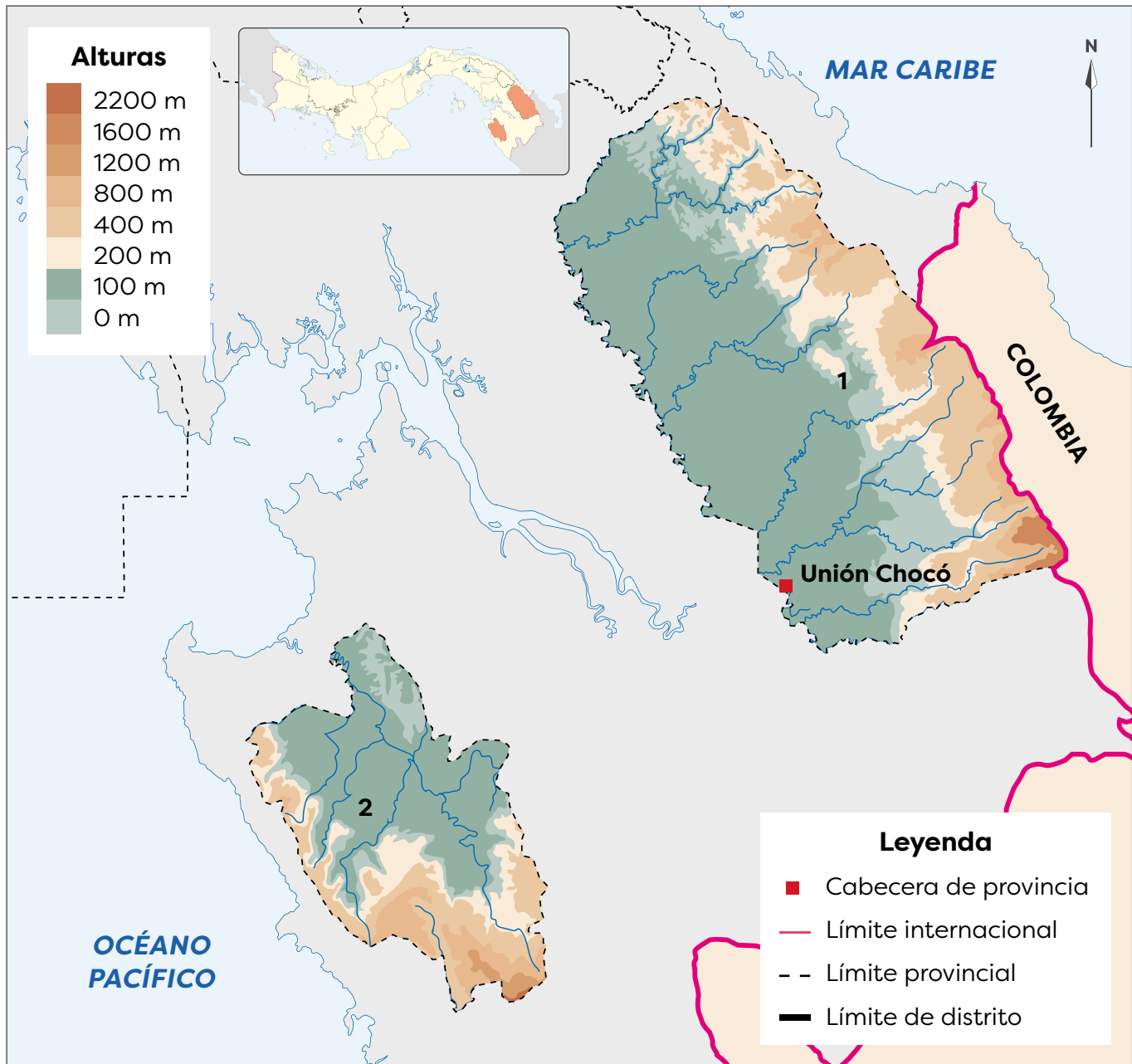


La comarca Emberá Wounaan se creó en 1983 y en ella habitan dos pueblos, los emberá y los wounaan. Los primeros se encuentran en Cémaco y los wounaan en Sambú.

La **vegetación** dominante en la comarca es el bosque húmedo tropical. El clima más húmedo en las zonas elevadas, facilita la presencia de ríos y humedad, lo que favorece ese tipo de bosque.

En Cémaco nacen numerosos **ríos**, como Membrillo, Tuquesa y Chico, todos ellos son afluentes del Chucunaque. En Sambú nacen ríos como Tigre y Venado, ellos son afluentes del río Sambú.

Comarca Emberá Wounaan



Distritos de la comarca Emberá Wounaan	
1. Cémaco	2. Sambú

Datos interesantes



La creación del lago Bayano en 1976 afectó el territorio de la población indígena de la zona. Luego, en 1996, se creó la comarca Guna de Madungandi como la conocemos en la actualidad.

Comarca Guna de Madungandi

La comarca Guna de Madungandi se **ubica** al noreste del territorio nacional. Tiene **forma** de rectángulo alargado y una **superficie** de 2075 km².

El territorio Guna de Madungandi **limita** al norte con la comarca Guna Yala; al sur y al oeste, con la provincia de Panamá, y al este, con la comarca Guna de Wargandi, en la provincia de Darién. La comarca es un corregimiento del distrito de Chepo, en la provincia de Panamá.

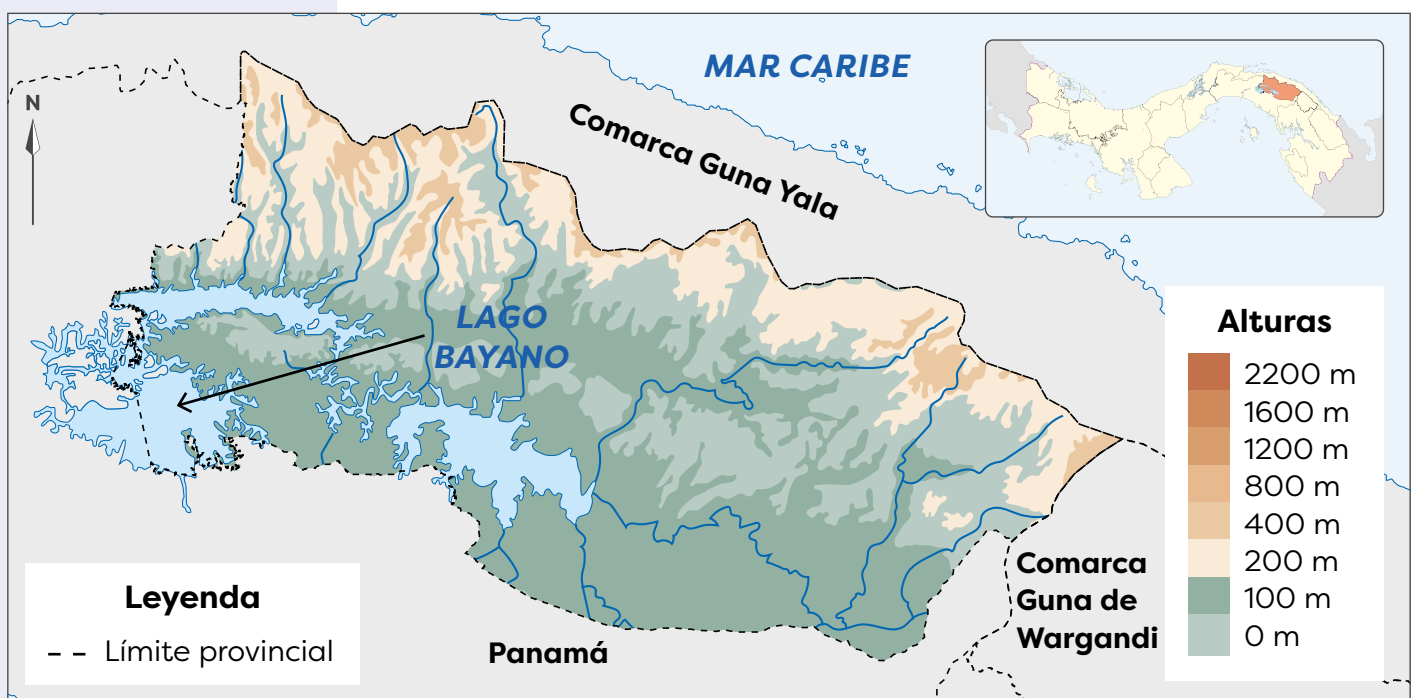
Paisaje natural de la comarca Guna de Madungandi

El **relieve** de la comarca está dominado por tierras bajas. Sin embargo, al norte, en el límite con la comarca Guna Yala se encuentran numerosos cerros y colinas que forman parte de la serranía de San Blas.

El **clima** tropical con estación seca prolongada se presenta en las tierras bajas. En las zonas elevadas, se manifiesta el clima subecuatorial con estación seca. La mayor diferencia entre ellos es la duración de la época seca, que puede ser de dos a cuatro meses.

La **vegetación** más extendida en la comarca es el bosque húmedo tropical. En los cerros nacen diversos **ríos**, como Los Botes, Bayano o Chepo y Cañazas. Todos ellos desembocan en el lago Bayano.

Comarca Guna de Madungandi



Comarca Guna de Wargandi

La comarca Guna de Wargandi se **ubica** al noreste del territorio panameño. Tiene **forma** triangular y una **superficie** de 956 km².

La comarca Guna de Wargandi **limita** al norte con la comarca Guna Yala; al sur y al este, con la provincia de Darién, y al oeste con la comarca Guna de Madungandi y la provincia de Panamá. Esta comarca es un corregimiento del distrito de Pinogana, en la provincia de Darién.

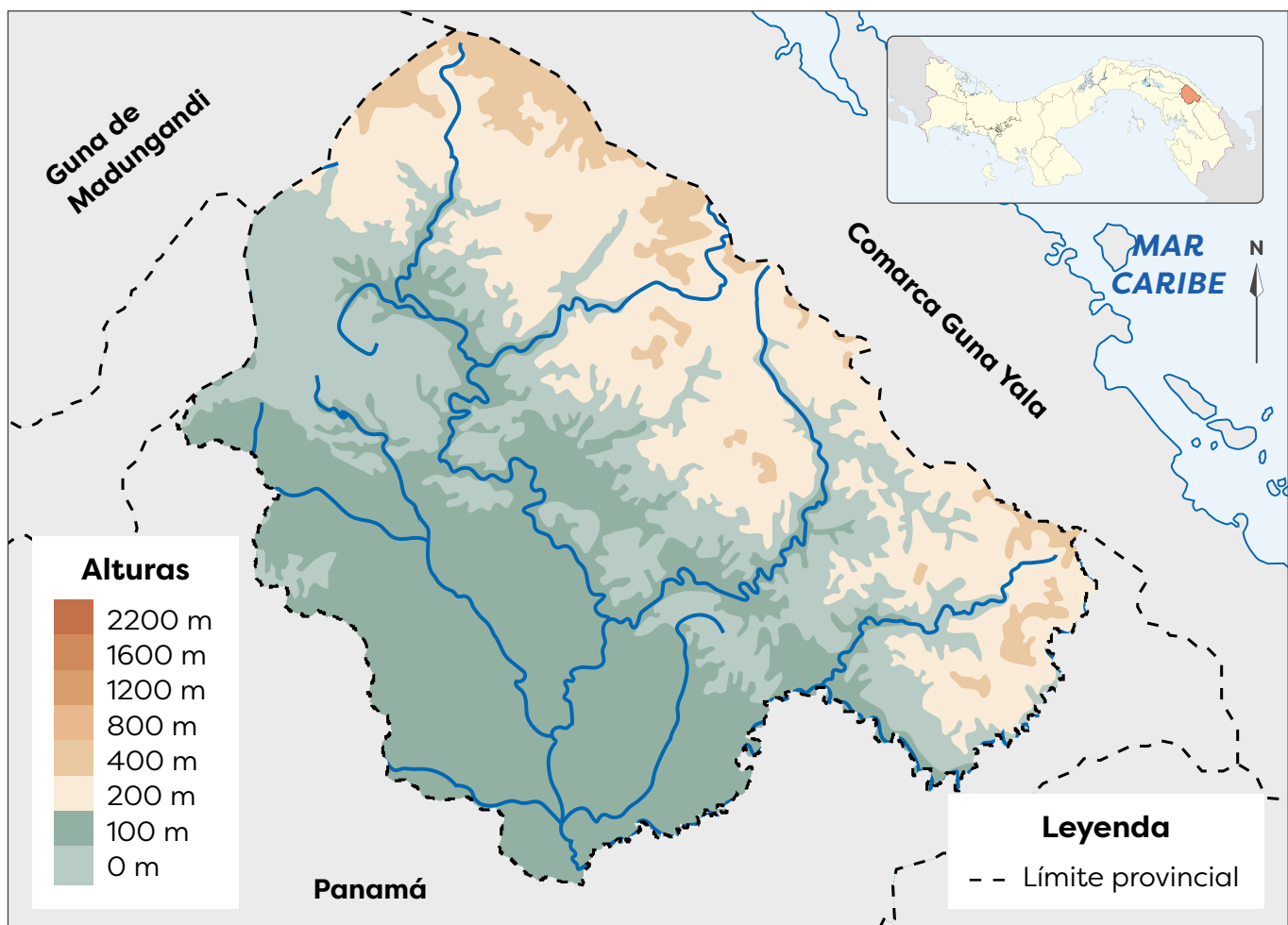
Paisaje geográfico natural de la comarca Guna de Wargandi

En el **relieve** de la comarca se distinguen elevaciones a lo largo del límite con la comarca Guna Yala. Esas altitudes son parte de la serranía de San Blas. El resto de la comarca presenta tierras bajas.

El **clima** subecuatorial con estación seca domina el territorio. Las temperaturas y lluvias son elevadas, pero la época seca puede extenderse por tres o cuatro meses.

El bosque húmedo tropical es la **vegetación** dominante en el territorio. En la comarca nacen diversos **ríos**, como el Martí o Subcuti que, fuera de la comarca, son afluentes del Chucunaque.

Comarca Guna de Wargandi





Bandera de la comarca Guna Yala

Corregimientos de la comarca Guna Yala

1. Narganá (Yandup según las normas gunas)
2. Ailigandí
3. Tubuala
4. Puerto Obaldía

Comarca Guna Yala

La comarca Guna Yala se **ubica** al noreste de Panamá. Tiene **forma** de arco alargado y una **superficie** de 2307 km² en una franja que se extiende por la costa del Caribe.

La comarca **limita** al norte con el mar Caribe, al sur con las provincias de Panamá, Darién y la comarca Emberá Wounaan, al este con Colombia y al oeste con la provincia de Colón. La **cabecera** es Gaigirgordub y se organiza en 4 corregimientos, no tiene distritos.

Paisaje geográfico natural de la comarca Guna Yala

El **relieve** de la comarca es de tierras altas debido a la presencia de la serranía de San Blas. Algunas de sus elevaciones son los cerros Cartí y Grande. Las tierras bajas se localizan junto a la costa y en las islas del archipiélago de San Blas, que forman parte de la comarca.

El **clima** dominante es el subecuatorial con estación seca. En algunos sectores montañosos se presenta el clima tropical oceánico. En este último, se registran lluvias abundantes todo el año.

La **vegetación** de la zona es el bosque muy húmedo y húmedo tropical. Las plantas con follaje siempre verde y abundante así como los manglares, son paisajes frecuentes.

Comarca Guna Yala



En la comarca hay diversos **ríos** cortos y torrentosos debido a la cercanía de los cerros. Algunos de ellos son el Carti Grande, Azúcar y Playón Grande.

La extensa costa de la comarca presenta **accidentes costeros** como el golfo de San Blas, bahía Masargandi así como numerosas islas y puntas. El archipiélago de San Blas, con sus 365 islas, forma parte de la comarca Guna Yala.

Comarca Naso Tjër Di

La comarca Naso Tjër Di se creó mediante la Ley 188 de diciembre de 2020, **segregando** sus territorios del distrito de Changuinola, provincia de Bocas del Toro. Debido a lo reciente de su creación, no tiene mapa oficial de su territorio. La comarca se **ubica** al oeste del país y tiene, según su norma de creación, una **superficie** de 1606 km².

Sus **límites** son: al norte y al este, con la provincia de Bocas del Toro, y al oeste y sur, con Costa Rica. La **cabecera** será la comunidad Sieyic, según el artículo 3, se crea el corregimiento de San San Druí, que comprende las comunidades de San San Druí, Tigra, Alto Solón, Peña Blanca, Loma Bandera y San San; y el corregimiento Bonyik, que comprende las comunidades de Rancho Quemado, Bonquin Sodi, Santa Rosa, Tres Piedras, Bonyik y Dos Concejales. En el artículo 4 se crea el distrito especial Naso Tjër Di.

Paisaje geográfico natural de la comarca Naso Tjër Di

Debido a la presencia de la cordillera Central, el **relieve** de la comarca es montañoso. El **clima** dominante es el tropical de montaña baja, con elevadas temperaturas y lluvias.


El bosque húmedo tropical es la **vegetación** más abundante. Los **ríos** destacados de la comarca son el Teribe y el Culubre. La comarca no tiene costas.

Comarca Ngäbe Buglé

La comarca Ngäbe Buglé se **ubica** al oeste del territorio panameño. Tiene **forma** rectangular y una **superficie** de 6829 km²; es la comarca más extensa del país.

La comarca **limita** al norte con el mar Caribe; al sur, con las provincias de Chiriquí y Veraguas; al este, con Veraguas, y al oeste, con Bocas del Toro y Chiriquí. La **cabecera** comarcal es Buäbiti. El territorio se organiza en 9 distritos y 70 corregimientos.

Gran parte del territorio de la comarca Naso se encuentra dentro de áreas protegidas como el parque internacional La Amistad.



Datos interesantes



El archipiélago de San Blas, con sus 365 islas, forma parte de la comarca Guna Yala.



Bandera de la comarca Naso Tjër Di

Vocabulario

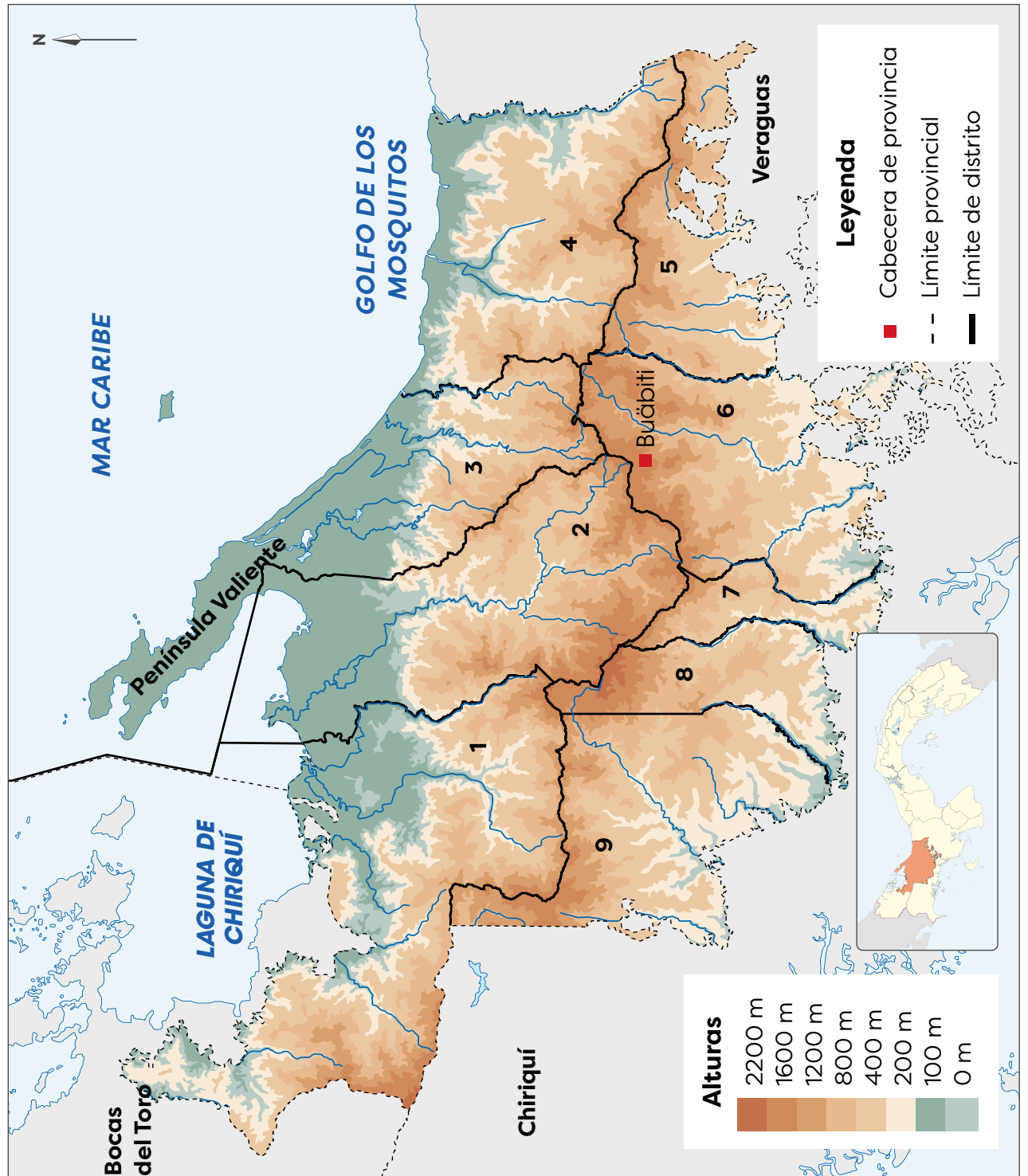


segregar. Separar o apartar algo o a alguien de otra u otras cosas.



Bandera de la comarca Ngäbe Buglé.

Comarca Ngäbe Buglé



Paisaje geográfico natural de la comarca Ngäbe Buglé

Las tierras altas dominan el relieve de la comarca. Eso se debe a la presencia de la cordillera Central a lo largo de la comarca. Algunas de las elevaciones destacadas en ese territorio son los cerros Chorcha, Santiago, Víbora y Aguacate (en el límite con la provincia de Veraguas). En la comarca también se encuentran tierras bajas hacia la costa.

Debido a la diversidad de altitudes de las montañas, la comarca posee varios tipos de climas (observa el mapa de la página 19). En las mayores elevaciones se presenta el clima oceánico de montaña baja, con temperaturas frescas y lluvias abundantes. Al sur de la comarca, el clima es subecuatorial con estación seca.

A partir de las elevaciones y hacia el Caribe, también se presentan los climas tropical de montaña baja y el tropical oceánico. En ambos tipos de clima las lluvias son abundantes, pero las temperaturas varían.

La vegetación más rica en la costa es el manglar. En los bosques húmedo y muy húmedo predominan en el resto del territorio. En todos ellos, las plantas y los árboles mantienen su follaje verde todo el año.

En la comarca nacen diversos ríos que desembocan en el Caribe, como el Cricamola y el Gwäriwiara. También nacen ríos que desembocan en el Pacífico, por Chiriquí, como el Fonseca, San Félix y Tabasará.

Los accidentes costeros más destacados de la comarca son la península Valiente y el golfo de Los Mosquitos. Además hay numerosas puntas, como Cocopluma, Santa Catalina y Guabo.



El paisaje de la comarca atrae a los turistas que practican el senderismo.



El río Chiriquí, que nace en las tierras altas de la comarca, desemboca en el golfo del mismo nombre.

La exuberancia de los bosques de la comarca son una buena fuente de alimento.



B. Conozco el tema

1. Completa la siguiente información sobre las comarcas del país:

Comarcas de Panamá			
Comarca	Ubicación	Superficie	Cabecera
Emberá Wounaan	Al este del país	Cémaco 3058 km ²	Unión Chocó
		Sambú 1307 km ²	
Guna de Madungandi	Al noreste del territorio	2075 km ²	
Guna de Wargandi	Al noreste del país	956 km ²	
Guna Yala	Al noreste del territorio nacional	2307 km ²	Gaigirgordub
Naso Tjër Di	Al oeste del territorio nacional	1606 km ²	Sieyic
Ngäbe Buglé	Al oeste del territorio	6829 km ²	Buäbiti

2. Define qué son las comarcas indígenas de Panamá.

Las comarcas indígenas son unidades político-administrativas especiales del territorio panameño. Ellas se rigen por las leyes que las crean y las normas y costumbres de los pueblos indígenas que las habitan.

- a. Anota en qué comarca vives o cuál se ubica cerca de la provincia donde habitas.

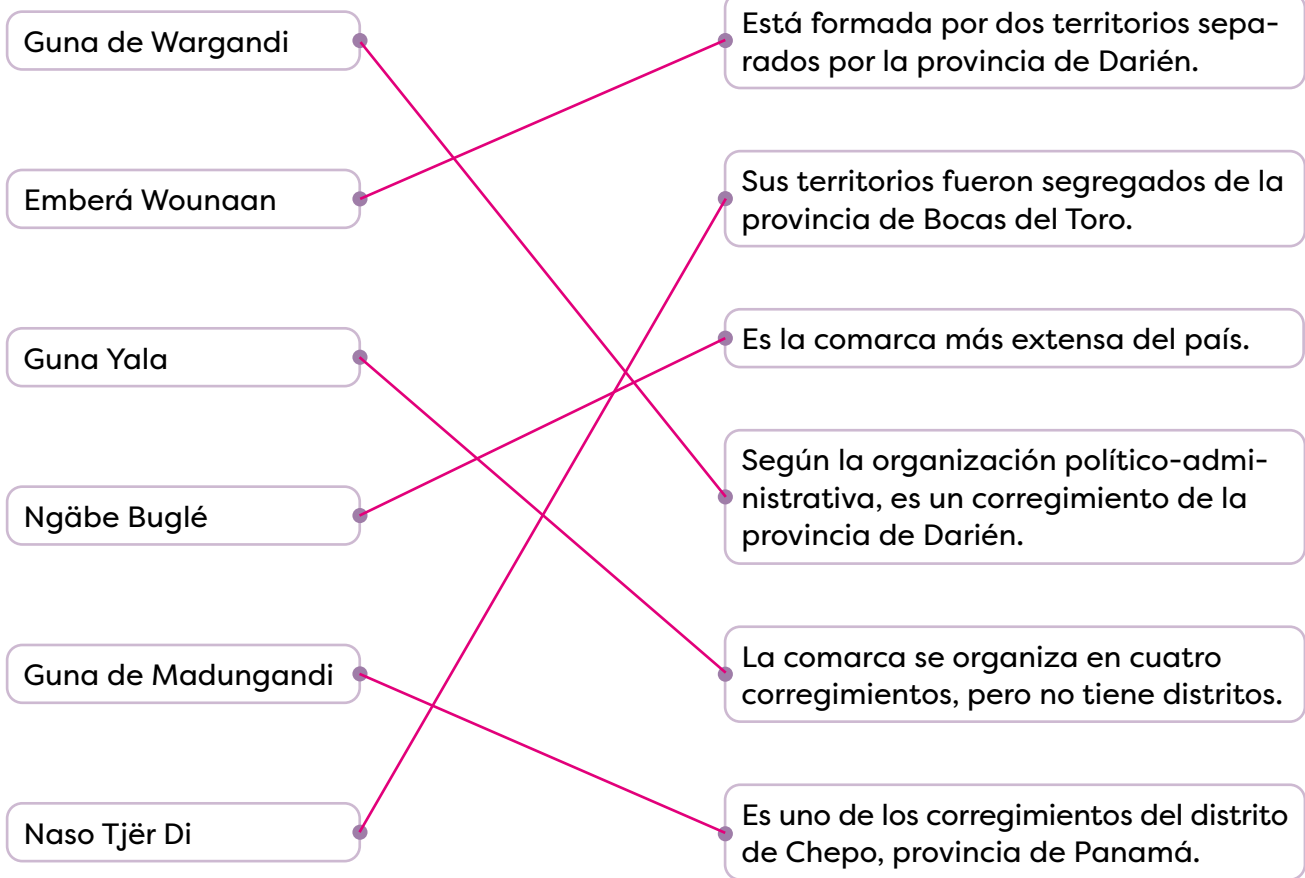
R. A.

- b. Escribe los límites de la comarca que indicaste en el ejercicio anterior.

R. A.

C. Comprendo la información

3. Relaciona, mediante una línea, las características físicas con la comarca que corresponde.



4. Dibuja dos formas de relieve de la comarca donde vives o según tu respuesta del ejercicio 2a. **R. A.**

a. Presenta tu trabajo a un compañero.

b. Adivinen a qué comarca corresponde el trabajo de cada uno.

5. Anota el nombre de cada comarca que posea los elementos del paisaje geográfico natural que se indican.

Las comarcas que presentan relieve como parte de serranías corresponden a

Emberá Wounaan, Guna de Madungandi,
Guna de Wargandi y Guna Yala

Las comarcas que poseen territorios en la cordillera Central se llaman

Ngäbe Buglé, Naso Tjër Di

Las comarcas que tienen accidentes costeros se llaman

Ngäbe Buglé y Guna Yala

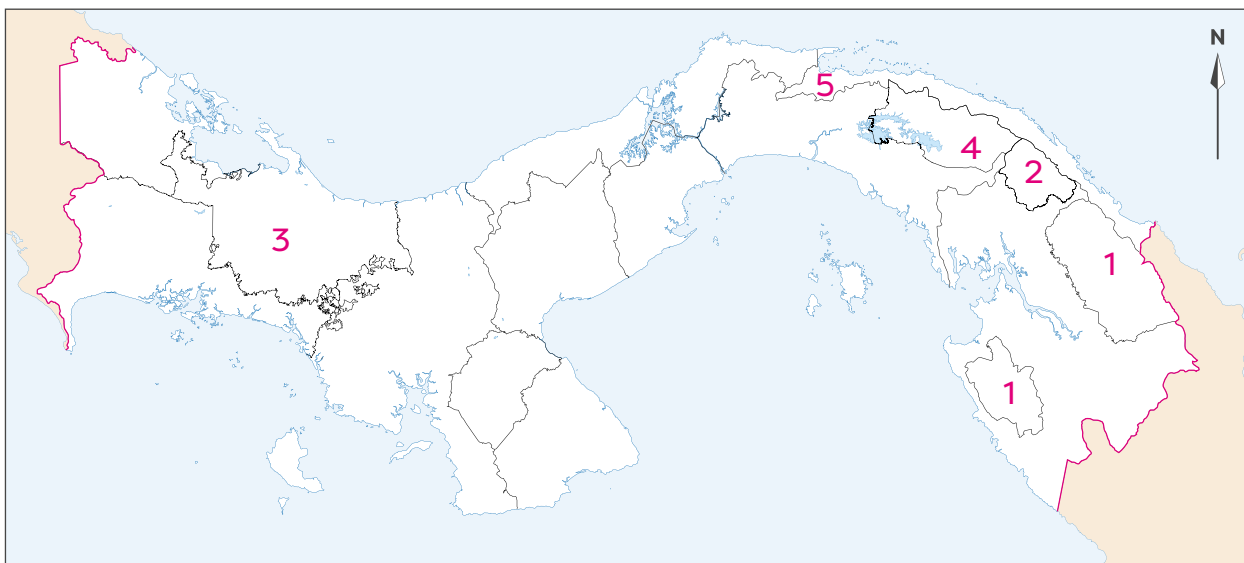
Las comarcas que cuentan con ríos que desaguan en el Caribe reciben el nombre de

Guna Yala, Naso Tjër Di y Ngäbe Buglé

6. Escribe, en el mapa, el número que identifica a cada comarca en el lugar donde corresponde.

a. Con ayuda de tu docente, encierra el área aproximada donde se ubica la comarca Naso Tjër Di.

Leyenda		
1. Emberá Wounaan	2. Guna de Wargandi	3. Ngäbe Buglé
4. Guna de Madungandi	5. Guna Yala	



D. Aplico mis conocimientos

7. Escribe, en la ficha, el nombre de la comarca donde vives o que te despierta mayor curiosidad. **R. A.**
- Explica de qué forma el relieve influye en los ríos de esa unidad político-administrativa.
 - Describe la relación entre el clima y la vegetación de ese lugar.

Relación relieve-ríos: _____

Relación clima-vegetación: _____

8. Elabora una maqueta sobre los elementos del paisaje geográfico natural de la comarca donde vives o la más cercana a tu provincia. **R. A.**
- Organicen la clase, con ayuda del docente, en equipos de cuatro integrantes.
 - Escriban una lista de los aspectos que deben representar, como relieve o accidentes costeros.
 - Piensen qué tamaño y materiales creen que van a utilizar para la maqueta. Sean creativos y procuren reutilizar o reciclar materiales.
 - Busquen información adicional sobre esa unidad político-administrativa y qué les gustaría incluir en la maqueta.
 - Construyan la maqueta e identifiquen los elementos que representaron.
 - Muestren su trabajo a la clase.
 - Comenten qué les llamó la atención de otros trabajos.